
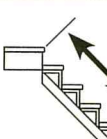
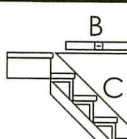


Identifiez les murs et les colonnes sur le plan. Inscrivez la dimension et la distance des colonnes aux extrémités du balcon.

1- Méthode « entre les poteaux »	2- Méthode « nez à nez »	3- Méthode « du triangle »
 <p style="text-align: center;">X</p> <hr/> <p style="text-align: center;">X</p> <hr/> <p>Degré</p>	 <p style="text-align: center;">X</p> <hr/> <p style="text-align: center;">X</p> <hr/> <p>Degré</p>	 <p style="text-align: right;">A :</p> <hr/> <p style="text-align: right;">B :</p> <hr/> <p style="text-align: right;">C :</p>

Le modèle et les dimensions sont approuvés par le client.

Signature du client : _____